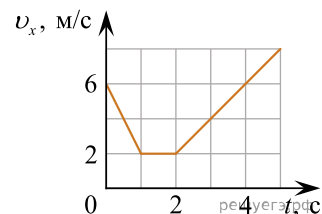
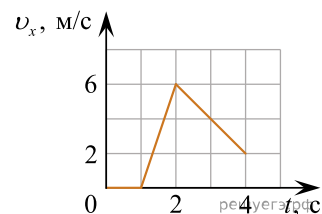


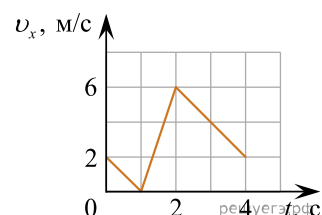
1. Материальная точка массой $m = 2,5$ кг движется вдоль оси Ox . График зависимости проекции скорости v_x материальной точки на эту ось от времени t представлен на рисунке. В момент времени $t = 4$ с модуль результирующей всех сил F , приложенных к материальной точке, равен ... **Н**.



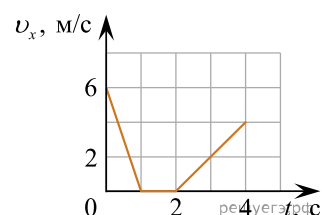
2. Материальная точка массой $m = 3$ кг движется вдоль оси Ox . График зависимости проекции скорости v_x материальной точки на эту ось от времени t представлен на рисунке. В момент времени $t = 3$ с модуль результирующей всех сил F , приложенных к материальной точке, равен ... **Н**.



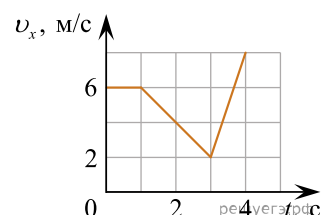
3. Материальная точка массой $m = 2,5$ кг движется вдоль оси Ox . График зависимости проекции скорости v_x материальной точки на эту ось от времени t представлен на рисунке. В момент времени $t = 3$ с модуль результирующей всех сил F , приложенных к материальной точке, равен ... **Н**.



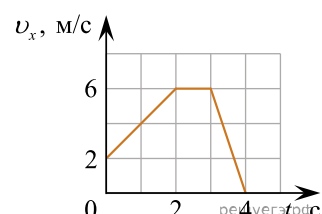
4. Материальная точка массой $m = 2,0$ кг движется вдоль оси Ox . График зависимости проекции скорости v_x материальной точки на эту ось от времени t представлен на рисунке. В момент времени $t = 3$ с модуль результирующей всех сил F , приложенных к материальной точке, равен ... **Н**.



5. Материальная точка массой $m = 2,0$ кг движется вдоль оси Ox . График зависимости проекции скорости v_x материальной точки на эту ось от времени t представлен на рисунке. В момент времени $t = 2$ с модуль результирующей всех сил F , приложенных к материальной точке, равен ... **Н**.



6. Материальная точка массой $m = 1,5$ кг движется вдоль оси Ox . График зависимости проекции скорости v_x материальной точки на эту ось от времени t представлен на рисунке. В момент времени $t = 1$ с модуль результирующей всех сил F , приложенных к материальной точке, равен ... **Н**.



7. Телу, находящемуся на гладкой наклонной плоскости, образующей угол $\alpha = 60^\circ$ с горизонтом, ударом сообщили начальную скорость, направленную вверх вдоль плоскости. Если время, через которое тело вернется в начальное положение, $t = 3,7$ с, то чему равен модуль начальной скорости тела равен? Ответ приведите в метрах в секунду.

8. Телу, находящемуся на гладкой наклонной плоскости, образующей угол $\alpha = 60^\circ$ с горизонтом, ударом сообщили начальную скорость, направленную вверх вдоль плоскости. Если модуль начальной скорости $v_0 = 48$ м/с, то время t , через которое тело вернется в начальное положение, равно? Ответ приведите в секундах.

9. На материальную точку массой $m = 0,50$ кг действуют две силы, модули которых $F_1 = 4,0$ Н и $F_2 = 3,0$ Н, направленные под углом $\alpha = 90^\circ$ друг к другу. Модуль ускорения a этой точки равен:

- 1) $2,0$ м/с² 2) $5,0$ м/с² 3) $8,5$ м/с² 4) 10 м/с² 5) 14 м/с²

10. Тело движется вдоль оси Ox под действием силы \vec{F} . Кинематический закон движения тела имеет вид: $x(t) = A + Bt + Ct^2$, где $A = 5,0$ м, $B = 2,0$ м/с, $C = 2,0$ м/с². Если масса тела $m = 2,0$ кг, то в момент времен $t = 2,0$ с мгновенная мощность P силы равна ... Вт.

11. Тело движется вдоль оси Ox под действием силы \vec{F} . Кинематический закон движения тела имеет вид: $x(t) = A + Bt + Ct^2$, где $A = 7,0$ м, $B = 4,0$ м/с, $C = 1,0$ м/с². Если масса тела $m = 4,0$ кг, то в момент времен $t = 3,0$ с мгновенная мощность P силы равна ... Вт.

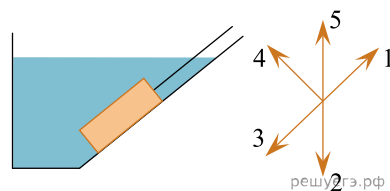
12. Тело движется вдоль оси Ox под действием силы \vec{F} . Кинематический закон движения тела имеет вид: $x(t) = A + Bt + Ct^2$, где $A = 4,0$ м, $B = 5,0$ м/с, $C = 1,0$ м/с². Если масса тела $m = 2,0$ кг, то в момент времен $t = 5,0$ с мгновенная мощность P силы равна ... Вт.

13. Тело движется вдоль оси Ox под действием силы \vec{F} . Кинематический закон движения тела имеет вид: $x(t) = A + Bt + Ct^2$, где $A = 6,0$ м, $B = 8,0$ м/с, $C = 2,0$ м/с². Если масса тела $m = 1,1$ кг, то в момент времен $t = 3,0$ с мгновенная мощность P силы равна ... Вт.

14. Тело движется вдоль оси Ox под действием силы \vec{F} . Кинематический закон движения тела имеет вид: $x(t) = A + Bt + Ct^2$, где $A = 1,0$ м, $B = 2,0$ м/с, $C = 1,0$ м/с². Если масса тела $m = 2,0$ кг, то в момент времен $t = 4,0$ с мгновенная мощность P силы равна ... Вт.

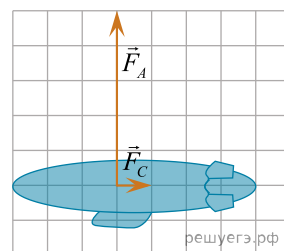
15. Тело движется вдоль оси Ox под действием силы \vec{F} . Кинематический закон движения тела имеет вид: $x(t) = A + Bt + Ct^2$, где $A = 6,0$ м, $B = 4,0$ м/с, $C = 1,0$ м/с². Если масса тела $m = 1,0$ кг, то в момент времен $t = 3,0$ с мгновенная мощность P силы равна ... Вт.

16. На дно водоёма с помощью троса равномерно опускают каменную плиту (см. рис.). Направление нормальной составляющей силы реакции грунта, действующей на плиту, показано стрелкой, обозначенной цифрой:

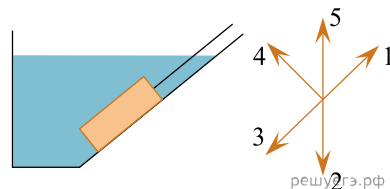


- 1) 1 2) 2 3) 3 4) 4 5) 5

17. Дирижабль летит в горизонтальном направлении с постоянной скоростью. На рисунке изображены сила Архимеда \vec{F}_A и сила сопротивления воздуха \vec{F}_C , действующие на дирижабль. Если сила тяги \vec{F}_T двигателей дирижабля направлена горизонтально, а модуль этой силы $\vec{F}_T = 10$ кН, то масса m дирижабля равна ... т.

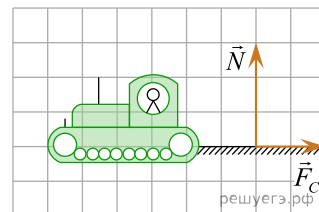


18. Со дна водоёма с помощью троса равномерно поднимают каменную плиту (см. рис.). Направление силы тяжести, действующей на плиту, показано стрелкой, обозначенной цифрой:

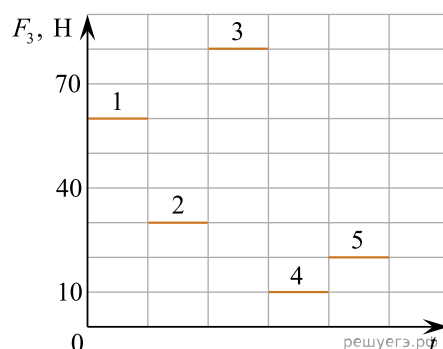


- 1) 1 2) 2 3) 3 4) 4 5) 5

19. При боронировании горизонтального участка поля трактор движется с постоянной скоростью. На рисунке изображены нормальная составляющая силы реакции \vec{N} грунта и сила сопротивления движению, действующие на борону. Если сила \vec{F} , с которой трактор тянет борону направлена горизонтально, а модуль этой силы $F = 400$ Н, то масса m бороны равна ... кг.

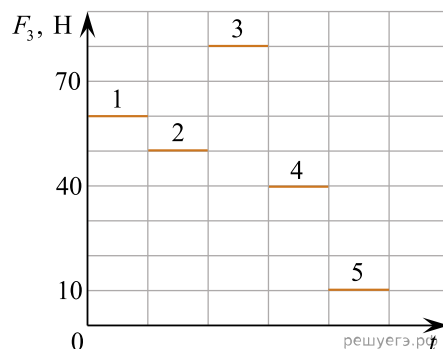


20. Тело двигалось в пространстве под действием трёх постоянных по направлению сил $\vec{F}_1, \vec{F}_2, \vec{F}_3$. Модуль первой силы $F_1 = 20$ Н, второй — $F_2 = 55$ Н. Модуль третьей силы F_3 на разных участках пути изменялся со временем так, как показано на графике. Если известно, что только на одном участке тело двигалось равномерно, то на графике этот участок обозначен цифрой:



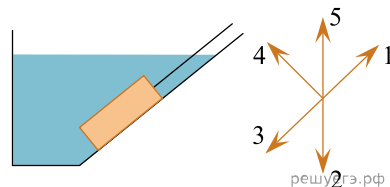
- 1) 1 2) 2 3) 3 4) 4 5) 5

21. Тело двигалось в пространстве под действием трёх постоянных по направлению сил $\vec{F}_1, \vec{F}_2, \vec{F}_3$. Модуль первой силы $F_1 = 30$ Н, второй — $F_2 = 15$ Н. Модуль третьей силы F_3 на разных участках пути изменялся со временем так, как показано на графике. Если известно, что только на одном участке тело двигалось равномерно, то на графике этот участок обозначен цифрой:



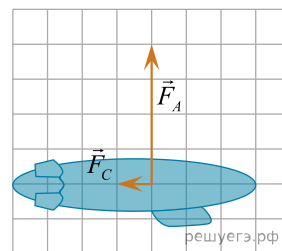
- 1) 1 2) 2 3) 3 4) 4 5) 5

22. На дно водоёма с помощью троса равномерно опускают каменную плиту (см. рис.). Направление силы трения скольжения, действующей на плиту, показано стрелкой, обозначенной цифрой:

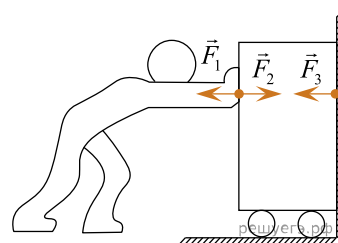


- 1) 1 2) 2 3) 3 4) 4 5) 5

23. Дирижабль массой $m = 8$ т летит в горизонтальном направлении с постоянной скоростью. На рисунке изображены сила Архимеда \vec{F}_A и сила сопротивления воздуха \vec{F}_C , действующие на дирижабль. Если сила тяги \vec{F}_T двигателей дирижабля направлена горизонтально, то модуль этой силы равен ... кН.

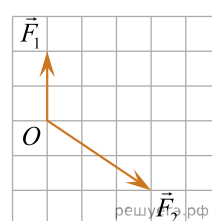


24. Человек толкает контейнер, который упирается в вертикальную стену (см.рис.). На рисунке показаны F_1 — сила, с которой контейнер действует на человека; F_2 — сила, с которой человек действует на контейнер; F_3 — сила, с которой стена действует на контейнер. Какое из предложенных выражений в данном случае является математической записью третьего закона Ньютона?

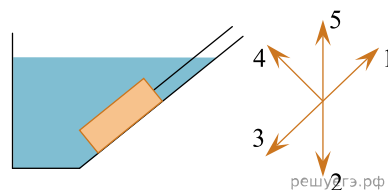


- 1) $\vec{F}_1 = -\vec{F}_2$ 2) $\vec{F}_1 = \vec{F}_3$ 3) $\vec{F}_1 + \vec{F}_2 + \vec{F}_3 = 0$ 4) $\vec{F}_2 = -\vec{F}_3$ 5) $\vec{F}_1 - \vec{F}_2 + \vec{F}_3 = 0$

25. На покоящуюся материальную точку O начинают действовать две силы \vec{F}_1 и \vec{F}_2 (см. рис.), причём модуль первой силы $F_1 = 6$ Н. Материальная точка останется в состоянии покоя, если к ней приложить третью силу, модуль которой F_3 равен ... Н.

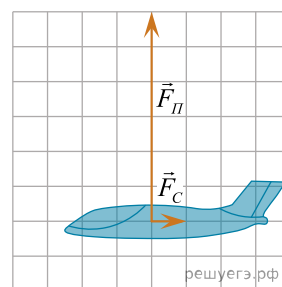


26. Из водоема с помощью троса поднимают каменную плиту (см.рис.). Направление силы трения скольжения, действующей на плиту, показано стрелкой, обозначенной цифрой:

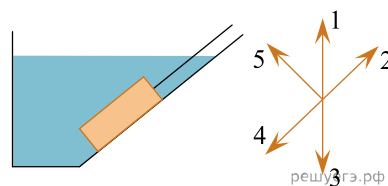


- 1) 1 2) 2 3) 3 4) 4 5) 5

27. Самолет летит в горизонтальном направлении с постоянной скоростью. На рисунке изображены подъемная сила \vec{F}_H и сила сопротивления воздуха \vec{F}_C , действующие на самолет. Если сила тяги \vec{F}_T двигателей самолета направлена горизонтально, а модуль этой силы $\vec{F}_T = 70$ кН, то масса m самолета равна ... т.

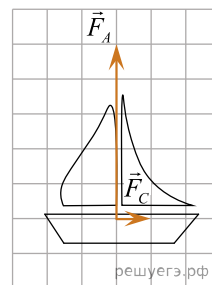


28. На дно водоема с помощью троса равномерно опускают каменную плиту (см.рис.). Направление силы трения скольжения, действующей на плиту, показано стрелкой, обозначенной цифрой:

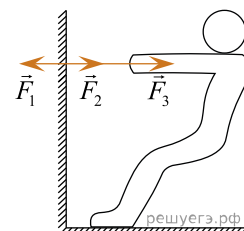


- 1) 1 2) 2 3) 3 4) 4 5) 5

29. Яхта массой $m = 6$ т движется с постоянной скоростью при попутном ветре. На рисунке изображены сила Архимеда \vec{F}_A и сила сопротивления воздуха \vec{F}_C , с которыми вода действует на яхту. Если ветер действует на яхту с силой \vec{F}_B направленной горизонтально, то модуль этой силы равен ... кН.

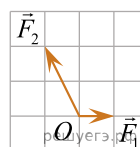


30. Невесомую веревку, прикрепленную к стене, человек тянет в горизонтальном направлении (см.рис.). На рисунке показаны: \vec{F}_1 — сила, с которой стена действует на веревку; \vec{F}_2 — сила, с которой веревка действует на стену; \vec{F}_3 — сила, с которой человек действует на веревку. Какое соотношение между векторами сил F_1 и F_2 ?

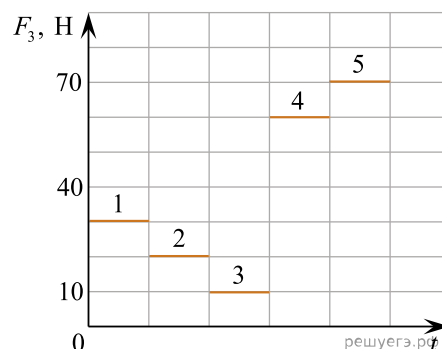


- 1) $\vec{F}_1 + \vec{F}_2 + \vec{F}_3 = 0$ 2) $\vec{F}_2 = \vec{F}_3$ 3) $\vec{F}_1 = -\vec{F}_3$ 4) $-\vec{F}_1 + \vec{F}_2 + \vec{F}_3 = 0$ 5) $\vec{F}_1 = -\vec{F}_2$

31. На покоящуюся материальную точку O начинают действовать две силы \vec{F}_1 и \vec{F}_2 (см.рис.), причём модуль первой силы $F_1 = 2$ Н. Материальная точка останется в состоянии покоя, если к ней приложить третью силу, модуль которой F_3 равен ... Н.

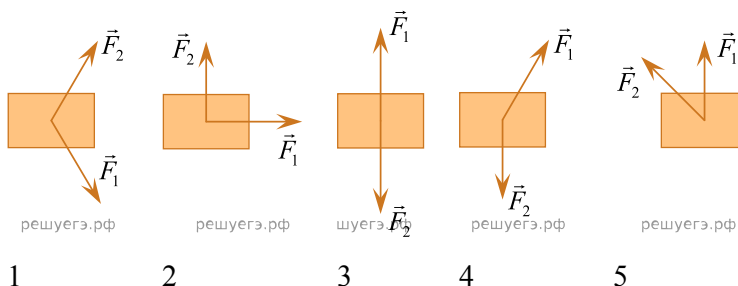


32. Тело двигалось в пространстве под действием трёх постоянных по направлению сил \vec{F}_1 , \vec{F}_2 , \vec{F}_3 . Модуль первой силы $F_1 = 15$ Н, второй — $F_2 = 40$ Н. Модуль третьей силы F_3 на разных участках пути изменялся со временем так, как показано на графике. Если известно, что только на одном участке тело двигалось равномерно, то на графике этот участок обозначен цифрой:



- 1) 1 2) 2 3) 3 4) 4 5) 5

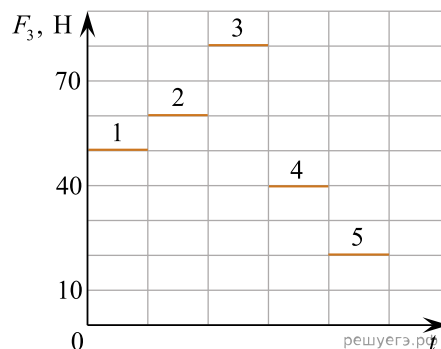
33. К телу приложены силы \vec{F}_1 и \vec{F}_2 , лежащие в плоскости рисунка. Направления сил изменяются, но их модули остаются постоянными. Наибольшее ускорение a тело приобретет в ситуации, обозначенной на рисунке цифрой:



- 1) 1 2) 2 3) 3 4) 4 5) 5

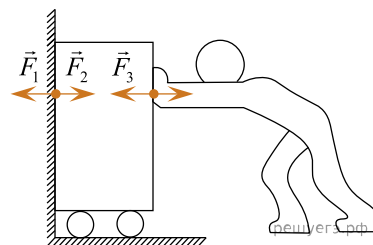
34. К бруску массой $m = 0,50$ кг, находящемуся на гладкой горизонтальной поверхности, прикреплена невесомая пружина жесткостью $k = 25$ Н/м. Свободный конец пружины тянут в горизонтальном направлении так, что длина пружины остается постоянной ($l = 17$ см). Если длина пружины в недеформированном состоянии $l_0 = 13$ см, то модуль ускорения бруска равен ... дм/с^2 .

35. Тело двигалось в пространстве под действием трёх постоянных по направлению сил \vec{F}_1 , \vec{F}_2 , \vec{F}_3 . Модуль первой силы $F_1 = 25$ Н, второй — $F_2 = 10$ Н. Модуль третьей силы F_3 на разных участках пути изменялся со временем так, как показано на графике. Если известно, что только на одном участке тело двигалось равномерно, то на графике этот участок обозначен цифрой:



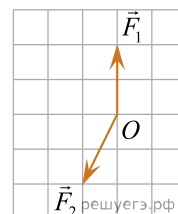
- 1) 1 2) 2 3) 3 4) 4 5) 5

36. Человек толкает контейнер, который упирается в вертикальную стену (см.рис.). На рисунке показаны: \vec{F}_1 — сила, с которой контейнер действует на стену; \vec{F}_2 — сила, с которой стена действует на контейнер; \vec{F}_3 — сила, с которой человек действует на контейнер. Какое из предложенных выражений в данном случае является математической записью третьего закона Ньютона?

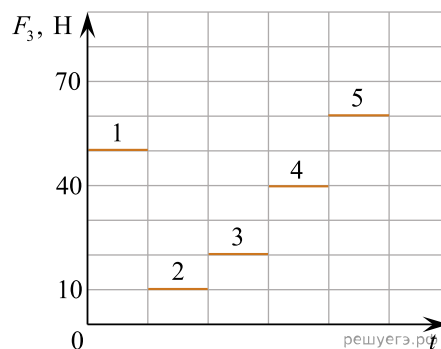


- 1) $\vec{F}_1 + \vec{F}_2 + \vec{F}_3 = 0$ 2) $\vec{F}_2 = -\vec{F}_3$ 3) $\vec{F}_1 = \vec{F}_3$ 4) $\vec{F}_1 - \vec{F}_2 + \vec{F}_3 = 0$ 5) $\vec{F}_1 = -\vec{F}_2$

37. На покоящуюся материальную точку O начинают действовать две силы \vec{F}_1 и \vec{F}_2 (см.рис.), причём модуль первой силы $F_1 = 8$ Н. Материальная точка останется в состоянии покоя, если к ней приложить третью силу, модуль которой F_3 равен ... Н.

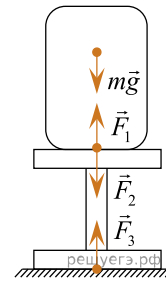


38. Тело двигалось в пространстве под действием трёх постоянных по направлению сил \vec{F}_1 , \vec{F}_2 , \vec{F}_3 . Модуль первой силы $F_1 = 10$ Н, второй — $F_2 = 35$ Н. Модуль третьей силы F_3 на разных участках пути изменялся со временем так, как показано на графике. Если известно, что только на одном участке тело двигалось равномерно, то на графике этот участок обозначен цифрой:



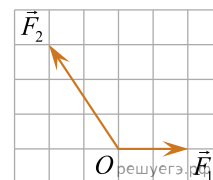
- 1) 1 2) 2 3) 3 4) 4 5) 5

39. На невесомой подставке, стоящей на полу лежит груз массой m (см.рис.). На рисунке показаны: $m\vec{g}$ — сила тяжести; \vec{F}_1 — сила, с которой подставка действует на груз; \vec{F}_2 — сила, с которой груз действует на подставку; \vec{F}_3 — сила, с которой пол действует на подставку. Какое из предложенных выражение в данном случае является математической записью третьего закона Ньютона?

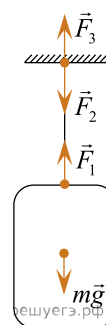


- 1) $\vec{F}_1 = -m\vec{g}$ 2) $\vec{F}_2 = m\vec{g}$ 3) $\vec{F}_1 = -\vec{F}_2$ 4) $\vec{F}_2 = -\vec{F}_3$ 5) $\vec{F}_3 = -m\vec{g}$

40. На покоящуюся материальную точку O начинают действовать две силы \vec{F}_1 и \vec{F}_2 (см.рис.), причём модуль первой силы $F_1 = 4$ Н. Материальная точка останется в состоянии покоя, если к ней приложить третью силу, модуль которой F_3 равен ... Н.

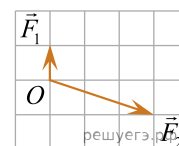


41. Груз массой m , подвешенный к потолку на невесомой нити, находится в состоянии покоя (см. рис.). На рисунке показаны: $m\vec{g}$ — сила тяжести; \vec{F}_1 — сила, с которой нить действует на груз; \vec{F}_2 — сила, с которой нить действует на потолок; \vec{F}_3 — сила, с которой потолок действует на нить. Какое из предложенных выражение в данном случае является математической записью третьего закона Ньютона?

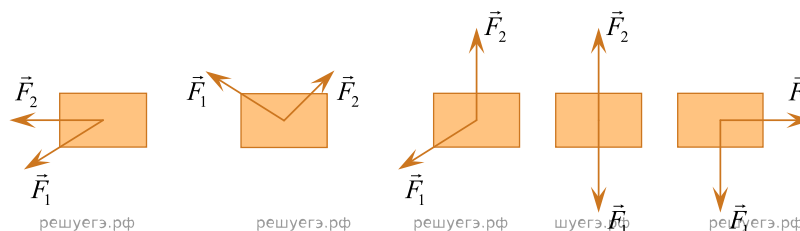


- 1) $\vec{F}_1 = -m\vec{g}$ 2) $\vec{F}_2 = m\vec{g}$ 3) $\vec{F}_1 = -\vec{F}_2$ 4) $\vec{F}_2 = -\vec{F}_3$ 5) $\vec{F}_3 = -m\vec{g}$

42. На покоящуюся материальную точку O начинают действовать две силы \vec{F}_1 и \vec{F}_2 (см.рис.), причём модуль первой силы $F_1 = 2$ Н. Материальная точка останется в состоянии покоя, если к ней приложить третью силу, модуль которой F_3 равен ... Н.



43. К телу приложены силы \vec{F}_1 и \vec{F}_2 , лежащие в плоскости рисунка. Направления сил изменяются, но их модули остаются постоянными. Наибольшее ускорение a тело приобретет в ситуации, обозначенной на рисунке цифрой:



1

2

3

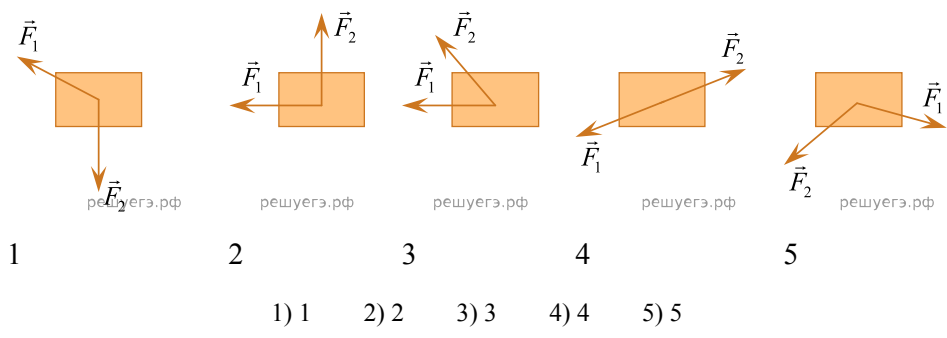
4

5

- 1) 1 2) 2 3) 3 4) 4 5) 5

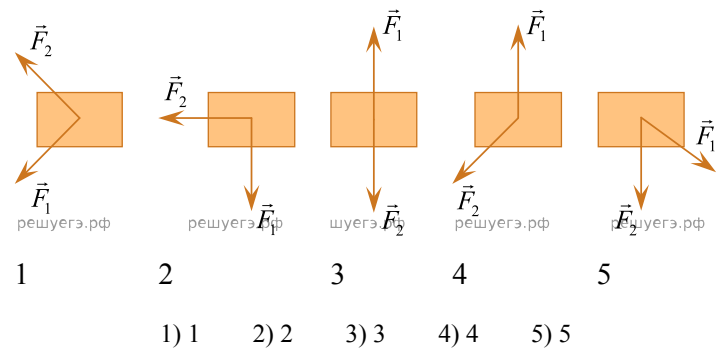
44. К бруску массой $m = 0,50$ кг, находящемуся на гладкой горизонтальной поверхности, прикреплена невесомая пружина жесткостью $k = 20$ Н/м. Свободный конец пружины тянут в горизонтальном направлении так, что длина пружины остается постоянной, а модуль ускорения бруска $a = 2,4$ м/с². Если длина пружины в недеформированном состоянии $l_0 = 12$ см, то ее длина l при движении равна ... см.

45. К телу приложены силы \vec{F}_1 и \vec{F}_2 , лежащие в плоскости рисунка. Направления сил изменяются, но их модули остаются постоянными. Наибольшее ускорение a тело приобретет в ситуации, обозначенной на рисунке цифрой:



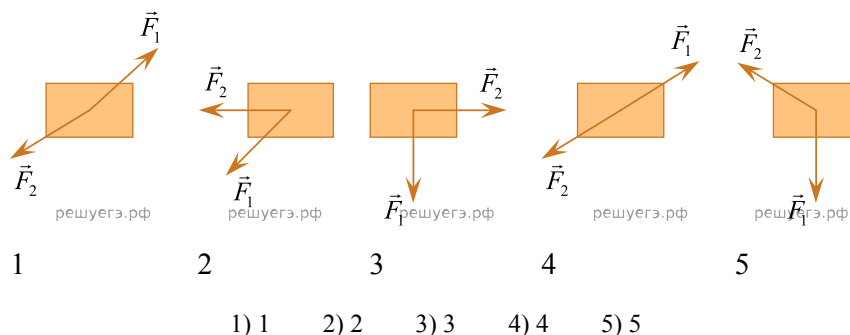
46. К бруску массой $m = 0,64$ кг, находящемуся на гладкой горизонтальной поверхности, прикреплена невесомая пружина жесткостью $k = 40$ Н/м. Свободный конец пружины тянут в горизонтальном направлении так, что длина пружины остается постоянной ($l = 16$ см). Если длина пружины в недеформированном состоянии $l_0 = 12$ см, то модуль ускорения бруска равен ... дм/с².

47. К телу приложены силы \vec{F}_1 и \vec{F}_2 , лежащие в плоскости рисунка. Направления сил изменяются, но их модули остаются постоянными. Наибольшее ускорение a тело приобретет в ситуации, обозначенной на рисунке цифрой:



48. К бруску, находящемуся на гладкой горизонтальной поверхности, прикреплена невесомая пружина жесткостью $k = 20$ Н/м. Свободный конец пружины тянут в горизонтальном направлении так, что длина пружины остается постоянной ($l = 140$ мм). Если длина пружины в недеформированном состоянии $l_0 = 100$ мм, а модуль ускорения бруска $a = 1,25$ м/с², то масса m бруска равна ... г.

49. К телу приложены силы \vec{F}_1 и \vec{F}_2 , лежащие в плоскости рисунка. Направления сил изменяются, но их модули остаются постоянными. Наибольшее ускорение a тело приобретет в ситуации, обозначенной на рисунке цифрой:



50. К бруску массой $m = 0,64$ кг, находящемуся на гладкой горизонтальной поверхности, прикреплена невесомая пружина. Свободный конец пружины тянут в горизонтальном направлении так, что длина пружины остается постоянной ($l = 15$ см). Если длина пружины в недеформированном состоянии $l_0 = 11$ см, а модуль ускорения бруска $a = 3$ м/с², то жесткость k пружины равна ... Н/м.

51. К некоторому телу приложены силы \vec{F}_1 и \vec{F}_2 , лежащие в плоскости рисунка (см. рис. 1). На рисунке 2 направление ускорения \vec{a} этого тела обозначено цифрой:

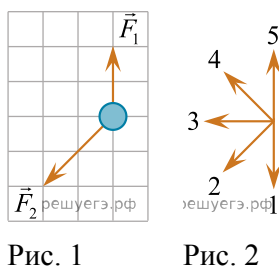


Рис. 1 Рис. 2

- 1) 1 2) 2 3) 3 4) 4 5) 5

52. Кинематический закон движения тела вдоль оси Ox имеет вид $x(t) = A + Bt + Ct^2$, где $A = 2,0$ м, $B = 3,0$ м/с, $C = 4,0$ м/с². Если модуль результирующей всех сил, приложенных к телу, $F = 320$ Н, то масса тела m равна ... кг.

53. К некоторому телу приложены силы \vec{F}_1 и \vec{F}_2 , лежащие в плоскости рисунка (см. рис. 1). На рисунке 2 направление ускорения \vec{a} этого тела обозначено цифрой:

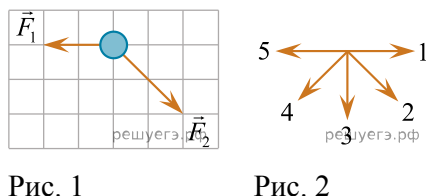


Рис. 1 Рис. 2

- 1) 1 2) 2 3) 3 4) 4 5) 5

54. Кинематический закон движения тела вдоль оси Ox имеет вид $x(t) = A + Bt + Ct^2$, где $A = 2,0$ м, $B = 1,0$ м/с, $C = -3,0$ м/с². Если масса тела $m = 2,0$ кг, то модуль результирующей всех сил F , приложенных к телу, равен ... Н.

55. К некоторому телу приложены силы \vec{F}_1 и \vec{F}_2 , лежащие в плоскости рисунка (см. рис. 1). На рисунке 2 направление ускорения \vec{a} этого тела обозначено цифрой:

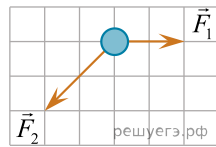


Рис. 1

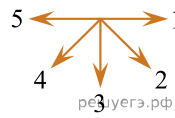



Рис. 2


- 1) 1 2) 2 3) 3 4) 4 5) 5

56. Кинематический закон движения тела вдоль оси Ox имеет вид $x(t) = A + Bt + Ct^2$, где $A = 4,0$ м, $B = 2,0$ м/с, $C = -0,8$ м/с². Если модуль результирующей всех сил, приложенных к телу, $F = 64$ Н, то масса тела m равна ... кг.


57. Два груза массы $m_1 = 0,4$ кг и $m_2 = 0,2$ кг, находящиеся на гладкой горизонтальной поверхности, связаны легкой нерастяжимой нитью (см. рис.). Грузы приходят в движение под действием сил, модули которых зависят от времени по закону: $F_1 = At$ и $F_2 = 2At$, где $A = 1,5$ Н/с. Если модуль сил упругости нити в момент разрыва $F_{\text{упр}} = 20$ Н, то нить разорвется в момент времени t от начала движения, равный ... с.



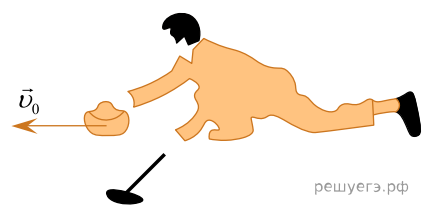
58. Два груза массы $m_1 = 0,5$ кг и $m_2 = 0,3$ кг, находящиеся на гладкой горизонтальной поверхности, связаны легкой нерастяжимой нитью (см. рис.). Грузы приходят в движение под действием сил, модули которых зависят от времени по закону: $F_1 = At$ и $F_2 = 2At$. Если нить разрывается в момент времени $t = 6$ с от начала движения и модуль сил упругости нити в момент разрыва $F_{\text{упр}} = 29$ Н, то коэффициент пропорциональности A равен ... Н/с. Ответ округлите до целых.



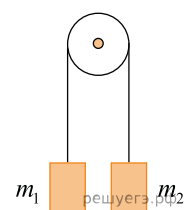
59. Два груза, находящиеся на гладкой горизонтальной поверхности, связаны легкой нерастяжимой нитью (см. рис.). Грузы приходят в движение под действием сил, модули которых зависят от времени по закону: $F_1 = At$ и $F_2 = 2At$, где $A = 1,60$ Н/с. Нить разрывается в момент времени $t = 10,0$ с от начала движения, и модуль сил упругости нити в момент разрыва $F_{\text{упр}} = 25,0$ Н. Если масса первого груза $m_1 = 900$ г, то масса m_2 второго груза равна... г.



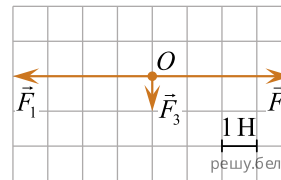
60. Игрок в кёрлинг сообщил плоскому камню начальную скорость \vec{v}_0 , после чего камень скользил по горизонтальной поверхности льда без вращения, пока не остановился. Коэффициент трения между камнем и льдом $\mu = 0,0093$. Если путь, пройденный камнем, $s = 34$ м, то модуль начальной скорости v_0 камня равен ... $\frac{\text{ДМ}}{\text{с}}$.



61. Два небольших груза массами $m_1 = 0,17$ кг и $m_2 = 0,29$ кг подвешены на концах невесомой нерастяжимой нити, перекинутой через неподвижный гладкий цилиндр. В начальный момент времени оба груза удерживали на одном уровне в состоянии покоя (см. рис.). Через промежуток времени $\Delta t = 0,60$ с после того как их отпустили, модуль перемещения $|\Delta \vec{r}|$ грузов друг относительно друга стал равен ... см.

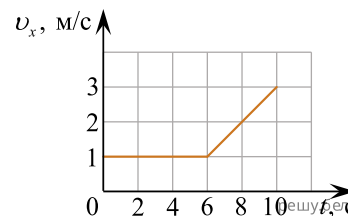


62. На материальную точку O действуют три силы: \vec{F}_1 , \vec{F}_2 , \vec{F}_3 (см. рис.), лежащие в плоскости рисунка. Модуль равнодействующей сил, приложенных к данной материальной точке, равен:



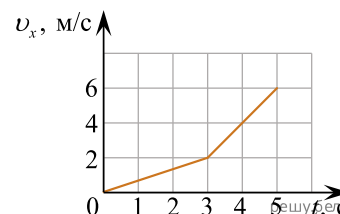
- 1) 9 Н; 2) 4 Н; 3) $3\sqrt{2}$ Н; 4) 3 Н; 5) 1 Н.

63. Тело движется вдоль оси Ox . График зависимости проекции скорости v_x тела от времени t изображён на рисунке. Если масса тела $m = 0,4$ кг, то в момент времени $t = 8$ с модуль результирующей сил F , действующих на тело, равен:



- 1) 0,2 Н; 2) 0,4 Н; 3) 0,5 Н; 4) 0,6 Н; 5) 0,8 Н.

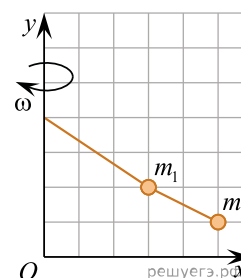
64. Тело движется вдоль оси Ox . График зависимости проекции скорости v_x тела от времени t изображён на рисунке. Если масса тела $m = 1$ кг, то в момент времени $t = 4$ с модуль результирующей сил F , действующих на тело, равен:



- 1) 1 Н; 2) 2 Н; 3) 3 Н; 4) 4 Н; 5) 5 Н.

65. Вокруг вертикальной оси Oy с постоянной угловой скоростью ω вращаются два небольших груза, подвешенных на лёгкой нерастяжимой нити. Верхний конец нити прикреплен к оси (см. рис.). Если масса первого груза $m_1 = 90$ г, то масса второго груза m_2 равна ... г.

Примечание. Масштаб сетки вдоль обеих осей одинаков.



66. Шарик массой $m = 88$ г, находящийся на вращающемся гладком горизонтальном диске, соединён лёгкой пружиной с вертикальной осью вращения, проходящей через центр диска (см. рис.). Шарик обращается вокруг этой оси с угловой скоростью $\omega = 5,0$ рад/с. Если удлинение пружины $\Delta l = 2,0$ см, а расстояние от оси вращения до центра шарика $l = 20$ см, то жёсткость пружины равна ... Н/м.

67. Шарик массой $m = 52$ г, находящийся на вращающемся гладком горизонтальном диске, соединён лёгкой пружиной жёсткостью $k = 25$ Н/м с вертикальной осью вращения, проходящей через центр диска (см. рис.). Шарик обращается вокруг этой оси с угловой скоростью $\omega = 5,0$ рад/с. Если расстояние от оси вращения до центра шарика $l = 25$ см, то удлинение Δl пружины равно ... мм.